



نام: .....

نام خانوادگی: .....

ریاضی: فصل پنجم، حل مسئله (زیر مسئله) - خط، نیم خط و پاره خط (ص ۷۹ تا ۸۴)

۱

$$4 \times 6 = 24$$

تعداد کاغذ رنگی های الینا را پیدا کنید.

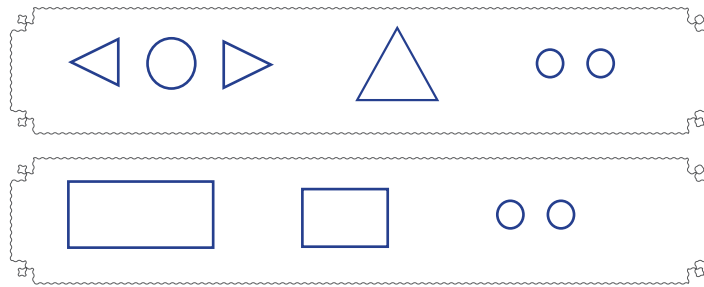
$$6 \times 6 = 36$$

تعداد کاغذ رنگی های فاطمه را پیدا کنید.





$$24 + 36 = 60$$

تعداد کاغذ رنگی های الینا و فاطمه را پیدا کنید.

۲

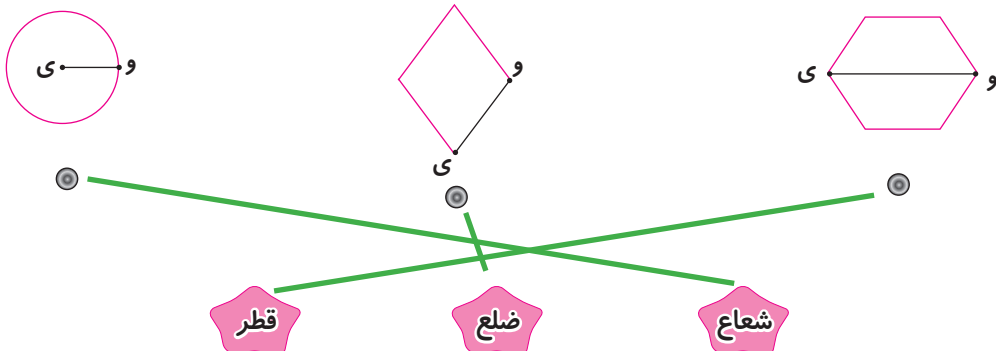


۳


			
مربع	مثلث	۶ ضلعی	نام شکل
۴	۳	۶	تعداد ضلع
۲	۰	۹	تعداد قطر
۴	۳	۶	تعداد پاره خط

۴


سه نیم خط	سه پاره خط	دو خط راست
«...س.و...»	«...س.ش...»	«...و.ی...»
«...ل.ی...»	«...ه.ش...»	«...د.الف...»
«...ب.د...»	«...ل.ش...»	



فارسی: درس ۹ (پوی نرگس)

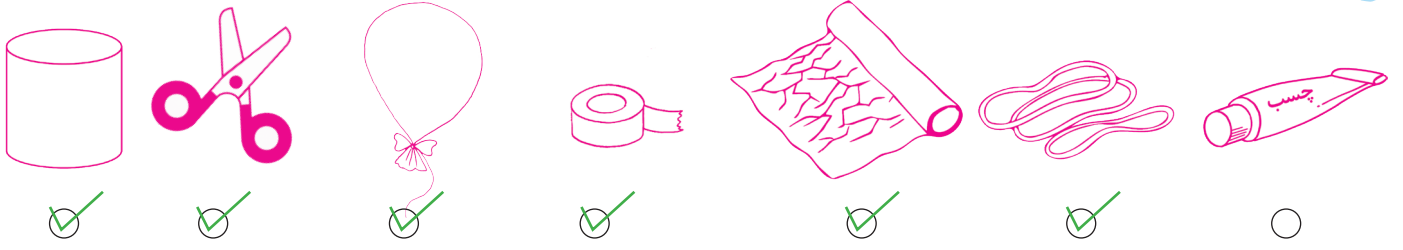


- ✓ می کنم
- ✓ می بارد
- ✓ می ماند
- ✓ باقیست



علوم: درس ۸، چیست و چو کنیم و بسازیم

۱ جواب آزاد است.

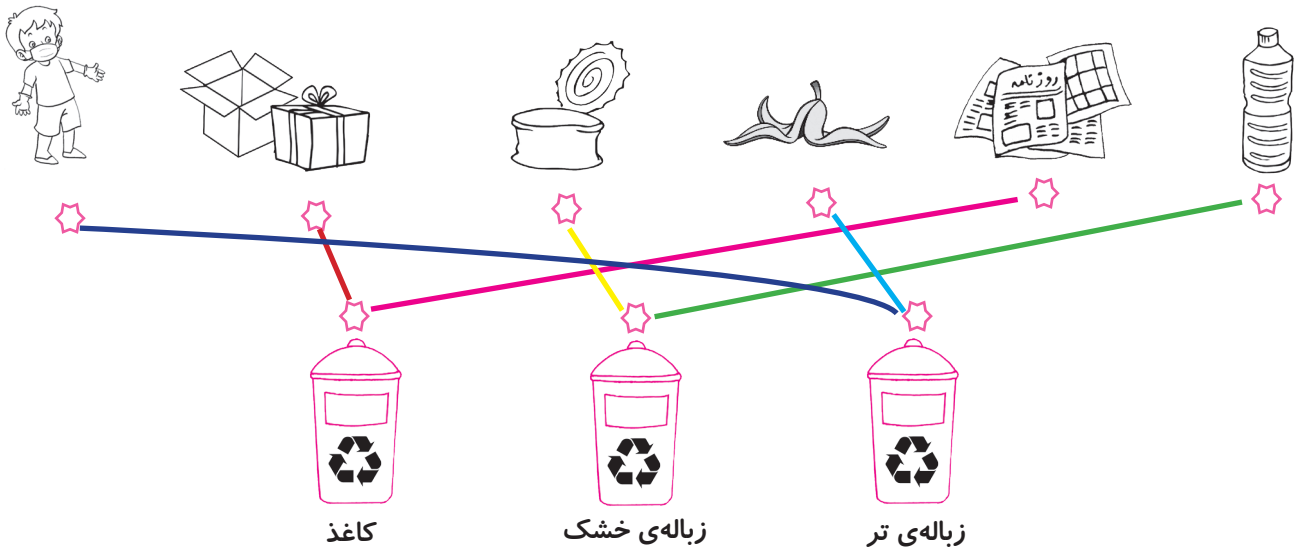


اجتماعی؛ درس ۳ (پز یافت)

- زباله ✂
- شهرداری ✂
- ضرر ✂
- بازیافت ✂



۲ جواب آزاد است.



کاغذ

زباله‌ی خشک

زباله‌ی تر

پروردگار 

حضرت محمد (ص) 



درست 

درست 



گزینه ۳



$$۳۶ + ۶ = ۴۲$$

$$۴۲ - ۳ = ۳۹$$

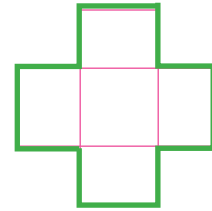
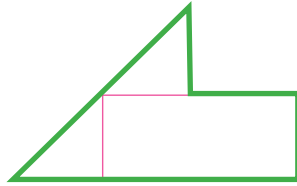
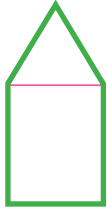
$$۳۹ \div ۳ = ۱۳$$

نام: .....

نام خانوادگی: .....

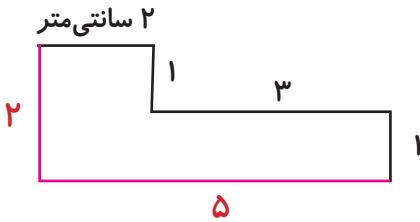
ریاضی: فصل پنجم، محیط (ص ۸۵ تا ص ۸۷)

۱



۲ جواب آزاد است.

۳



$$\text{سانتی‌متر } 14 = 5 + 3 + 2 + 4 = 5 + 3 + (2 \times 1) + (2 \times 2)$$

۴ جواب آزاد است.

۵

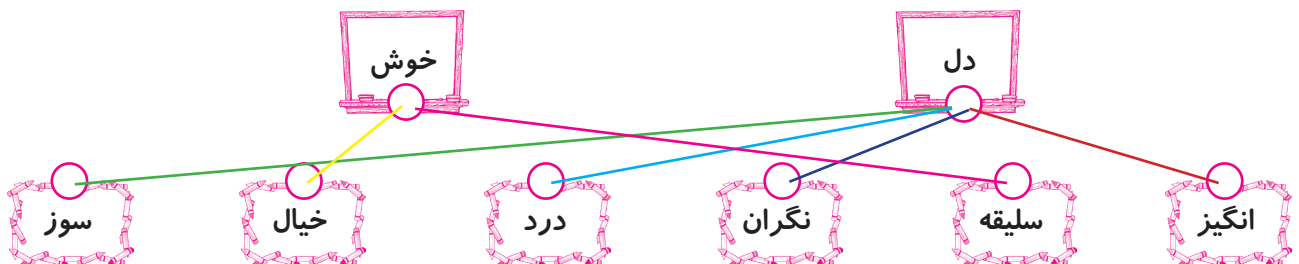
درست

درست

نادرست

فارسی: درس ۹، پوی نرگس

۱



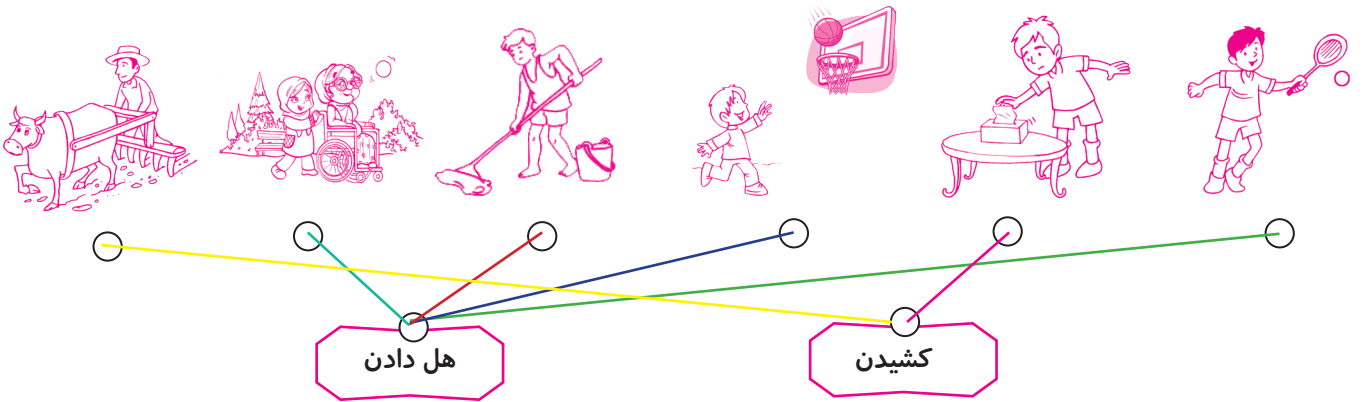
درست

نادرست

درست

۳ جواب آزاد است.

علوم: درس ۹، نیرو همه‌جا (۱) (ص ۶۳ تا ۶۹)



حرکت

نیرو

بازی‌ها

اجتماعی: درس ۱۴ (خانم را دوست دارم)

درست

نادرست

درست

- کارهای 
- گفت و گو 
- اوقات خوبی 

هدیه‌های آسمان: درس ۳، انتخاب پروانه

۱ جواب آزاد است.

۲

- خدا 
- صدف 
- موی سر 

۳

- ☆ نادرست
- ☆ درست
- ☆ درست

گزینه‌ی ۲



اندازه‌ی یک ضلع  $4 \times 4 =$  محیط مربع

$$4 \times 4 = 16$$

اندازه‌ی دو ضلع بیرونی مثلث  $12 - 4 = 16$

محیط مثلث = محیط مربع =  $16$  سانتی‌متر

$$24 = 12 + (4 \times 3)$$

کاربری  
هفتگی



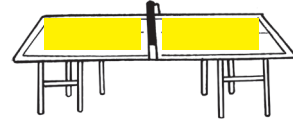
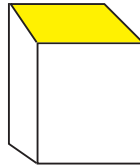
سوم  
دبستان

نام: .....

نام خانوادگی: .....

ریاضی: فصل پنجم، اندازه‌ی سطح (ص ۸۸ تا ۹۰)

۱

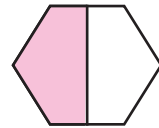

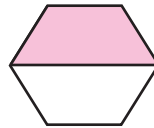
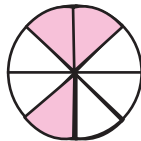
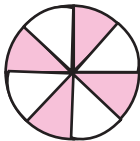


۲

۱.۰ تا مربع

۱.۶ تا مربع

۳



۴ =


فارسی: درس ۱۰ (پار مهربان)

۱ جواب آزاد است.

۲

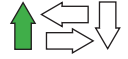

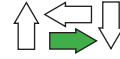
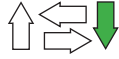
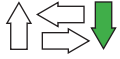
بعضی - آزردہ - شکایت - حقیقت - دوست

۳



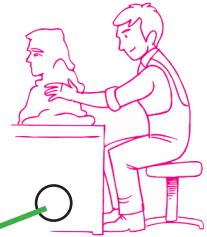


۱



۲ جواب آزاد است.

۳



تغییر جهت  
حرکت جسم

تغییر شکل  
جسم

توقف  
حرکت جسم

۴

نادرست

درست

درست

اجتماعی: درس ۱۵ (خانه‌ها با هم تفاوت دارند)

۱



۲

☆ درست

☆ نادرست

☆ درست

۳

گزینه‌ی د

۴

✿ روستایی

✿ کوچ

✿ تعداد زیادی

هدیه‌های آسمان: درس ۱۴ (اتم پپه)

۱

(۱) خدیجه

(۳) محمد

(۵) جهان

(۷) مدینه

(۲) پنج

(۴) مرهم

(۶) مادر پدرش

۲ جواب آزاد است.



نام: .....

نام خانوادگی: .....

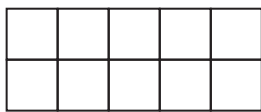
ریاضی: فصل پنجم، واحد اندازه گیری سطح (ص ۹۱ تا ۹۶)

۱

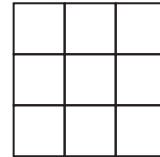
مساحت \*

مربع \*

۲



مساحت	عرض	طول
$5 \times 2 = 10$	۲	۵



مساحت	اندازه ی یک ضلع
$3 \times 3 = 9$	۳

۳

مساحت مستطیل = عرض  $\times$  طول

$$6 \times 4 = 24$$

۲۴ متر مربع موکت نیاز داریم.

۴

مساحت مستطیل = عرض  $\times$  طول

$$1 \times 3 = 3$$

$$4 \times 1 = 4$$

$$3 + 4 = 7$$

مساحت کل شکل ۷ متر مربع است.

۵

مساحت مستطیل = عرض  $\times$  طول

$$5 \times 3 = 15$$

$$2 \times 2 = 4$$

مساحت قسمت رنگ شده  $15 - 4 = 11$

مساحت مربع = خودش  $\times$  اندازه ی یک ضلع

۹ جواب آزاد است.

۱

خلاصه

مختلف

آغوش

حالتان

بعضی

.....مختلف.....

.....خلاصه.....

.....حالتان.....

.....بعضی.....

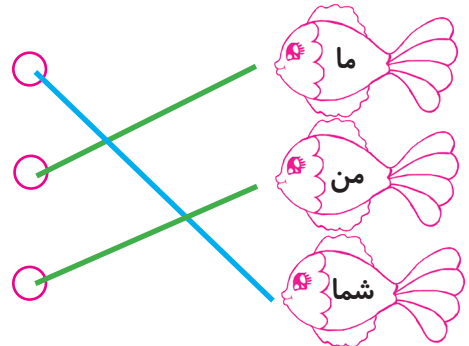
.....آغوش.....

۲

را با آدم‌های و جاهای مختلف آشنا می‌کنم.

باهم به سفرهای خیالی می‌رویم.

با شنیدن تپش قلب کوچولو و مهربان شما، از حالتان باخبر می‌شوم.



۳

ش	پ	ت	ق	ی	ق	ح
ک	ر	ی	و	ب	ش	ا
ا	ت	ذ	ل	ع	ن	غ
ی	ش	و	د	ض	گ	ل
ت	ق	و	ا	ی	ی	پ

اغلب.....

شکایت.....

حقیقت.....

لذت.....



بعضی.....

۴

دانش آموز هنرمند دانش آموزی که هنر دارد

رفتار ارزشمند رفتاری که ارزش دارد

علوم: درس ۱، نپرو همه جا (۲) (ص ۷۳ تا ۷۶)



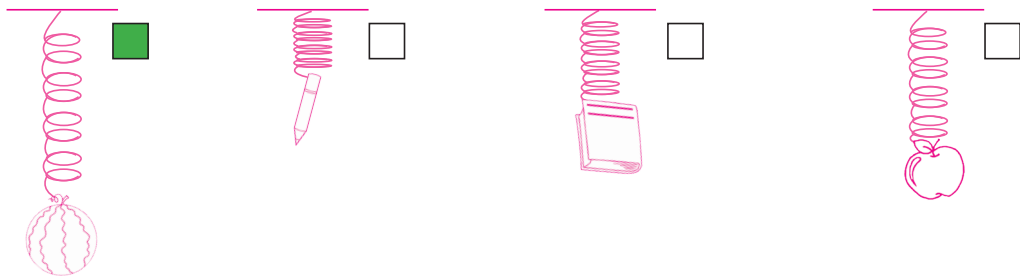
دفع

غیر هم نام

جاذبه‌ی

بیش تر

## ۳ گزینه‌ی ب



## ۵ جواب آزاد است.

اجتماعی؛ درس ۱۶ (خانه‌ی شما چه شکلی است؟)

😊 حیاط

😊 آب انار

😊 حمام

لوله‌های آب را از زیر زمین عبور می‌دهد.

دیوارها و سقف‌ها را می‌سازند.

سیم کشی می‌کند و برق را به همه‌ی مکان‌های خانه می‌برد.

نقشه‌ی خانه را می‌کشد.

لوله کش

برق کار

مهندس ساختمان

بنا و کارگران

- ◇ مکان‌های
- ◇ اتاق‌ها
- ◇ عمومی

هدیه‌های آسمان: درس ۱۴ (اُمّ ایپها)

۱

سبحان الله

۳۳ مرتبه

الحمد لله

۳۳ مرتبه

الله اكبر

۳۴ مرتبه

۲

آمنه

مرضیه

طاهره

بتول

ریحانه

زینب