

پاسخ سؤالات زیر را از جدول پیدا کنید و رنگ بزنید تا به رمز جدول برسید.

		سامرا		ابوذر		دعبل	حضرت فاطمه
تقی		کاظمین	امام سجاد	مسجد النبی	سلیمان فارسی	خدیجه (س)	زینب
	جواد						فرعون
		امام زمان (ع)	حرم امام	موسی (ع)	شاه چراغ	امام علی (ع)	
کاظم			مسجد الحرام	جواد و امام کاظم (ع)	آسیه	امام حسین (ع)	
جماعت		کمیل	فرادی	نیل		قم	

۷- خیابانی که حرم امام حسین و حضرت

ابوالفضل (ع) در آن قرار دارد.

۸- حرمی با دو گنبد است.

۹- نمازی که به صورت تنهایی خوانده

می شود.

۱۰- ثواب این نماز بسیار زیاد است.

۱۱- با آمدنش جهان پر از عدل و خوبی می شود.

۱۲- پادشاه زمان امام رضا (ع)

۱- اولین مردی که به پیامبر ایمان آورد.

۲- نام همسر پیامبر

۳- رودی که سبب حضرت موسی (ع)

را در آن قرار دادند.

۴- برادر امام رضا (ع) هستند.

۵- به معنی بخشنده و سخاوتمند

۶- حرم خواهر امام رضا (ع) در این

شهر قرار دارد.

زهرا و خانواده اش در تعطیلات عید نوروز به مسافرت رفتند. آن ها در راه برای خوردن ناهار، در جایی خوش آب و هوا ایستادند. پدر قبل از هر کاری نماز خواند. زهرا از او پرسید: «پدر جان! این جا که آب نبود، شما چه طور وضو گرفتید؟» پدر گفت: من تیمم کردم.

حالا شما مراحل تیمم را بنویسید.



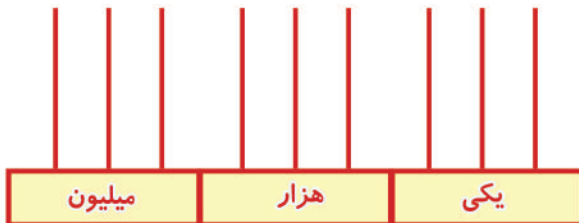
حاصل عبارت‌های زیر را به دست آورید.

$$۱۲/۵ + ۴/۹ - ۳/۶ =$$

$$(۷ \times \frac{۵}{۴۰}) - (\frac{۳}{۱۰} + \frac{۲}{۵}) =$$

در یکی از روزهای عید نوروز، پرهام و پدرش برای دیدن بازی فوتبال به استادیوم رفتند. آن‌ها ساعت ۱۴:۲۰ از خانه خارج شدند و بعد از ۳ ساعت و ۵۰ دقیقه به خانه بازگشتند. آن‌ها چه ساعتی به خانه بازگشته‌اند؟

احمد آقا با فروش سبزه‌های عید، بیست و چهار میلیون و نه هزار و سی و شش هزار ریال درآمد کسب کرد. درآمد او را از فروش سبزه‌ها را با رقم بنویسید و با کمک پولک یا وسایل تزئینی، آن را روی چرتکه نشان



با رقم: 

حاصل ضرب و تقسیم زیر را به دست آورید.

$$\begin{array}{r} ۲۸۰ \\ \times ۵۹۰ \\ \hline \end{array}$$

$$\begin{array}{r} ۵۲۱ \overline{) ۲۱} \\ \hline \end{array}$$




یکی از شخصیت‌هایی را که در منطقه یا استان شما به زبان و فرهنگ ایرانی خدمت کرده است، معرفی کنید.

با استفاده از واژه‌های داده شده، متن زیر را کامل کنید.

وحوش حاصل خلاص
 اتفاقاً گرگ پیشه‌ای
 موشی عوض زاری
 صیادی رهایی

در روزگاران قدیم در شیری لانه داشت. در آن جا انواع و اقسام زندگی می‌کردند. روزی به دست شیر گرفتار شد. موش که بسیار ترسیده بود، شروع به کرد و از شیر خواست تا او را آزاد کند. شیر رهایش کرد. یک روز شیر در دام که به دنبال بود، گرفتار شد. موش برای شیر رفت و به لطفی که شیر به او کرده بود، او را از دام صیاد کرد. شیر دانست که آزادی امروز او لطف دیروزش است.



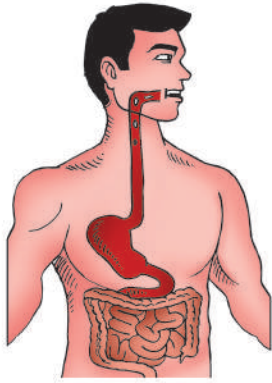
جدول را کامل کنید.

۵ کلمه‌ی مخالف از درس ۱۱	۵ کلمه‌ی مخالف از درس ۱۱	۵ کلمه‌ی دار از درس ۱۰
۵ کلمه از درس ۱۴ که دارای نشانه‌ی ع جمع باشند		

پیش‌تر بدانیم



خرگوش‌ها و طوطی‌ها بدون نیاز به چرخاندن سرشان قادرند پشت سر خود را ببینند.







با توجه به تصویر، به سؤال‌ها پاسخ دهید.

نام دستگاه:

وظیفه:

نام عضوهای این دستگاه:

جدول را کامل کنید.

				وسیله
..... به به به به	تبدیل انرژی

هر جمله را به کلمه‌ی مربوط به خودش وصل کنید. (برخی کلمه‌ها اضافه‌اند).



نیروی بین قطب N و S آهن‌ربا
بزرگ‌ترین سیاره‌ی منظومه شمسی
گرما را به سرعت از خود عبور می‌دهند
جذب آهن‌ربا نمی‌شود
سنگی که از مواد مذاب آتشفشان‌ها ایجاد می‌شود
نوعی سنگ رسوبی

آذرین

فلزات

سنگ آهک

کاغذ

سنگ مرمر

دافعه

جاذبه

رسوبی

مشتری

نکته‌ی بهداشتی



پازی و فعالیت بدنی برای کودکان مثل اکسیژن برای ادامه‌ی حیات است و سبب رشد و تقویت سلامت روحی و جسمی آن‌ها می‌شود.