




بخش ۱




بخش ۲





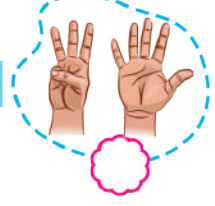

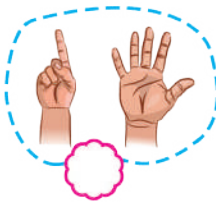


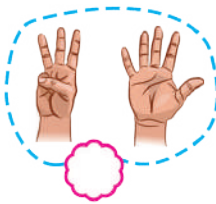
بخش ۳



۱- گلم، عدد هر دسته را بنویس و دور دسته‌ی کم‌تر خط بکش.











۲- گلم، عدد هر دسته را بنویس و بین آن‌ها علامت (= یا <) بگذار.





/ /

۳- قشنگم، شکل‌های مثل هم را با خط‌کش به یک‌دیگر وصل کن. عدد آن را بنویس. 😞 😊 😄



۴- گلم، از ۵ تا روی تخته بنویس. 😞 😊 😄

Blank green box with two horizontal lines for writing the number 5.







۱ ۱

۶	۷	۰	۲	۴	۵	۸	۳	۱
۳	۵	۸	۱		۶		۲	۴
۴		۱	۸	۹	۳	۷	۶	
۷	۳	۶	۹	۵	۱	۲	۴	۸
۵	۱	۴	۷	۲		۶		۳
۹	۸		۶	۳	۴	۱	۵	
۲	۶	۳	۴	۸	۷	۵	۱	۹
۱		۷	۵	۶	۹	۳	۸	۲
	۹	۵	۳		۲	۴	۷	۶

۱۶- جدول را کامل کن. 😞 😊 😄



۱۷- دلبندم، با نوشتن عدد مناسب مشخص کن

اندازه‌ی چتر، چند تا شکل است. 😞 😊 😄

تا چینه

تا گیره

تا شکلات



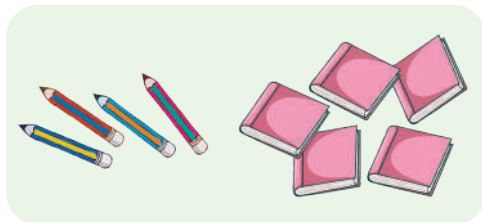
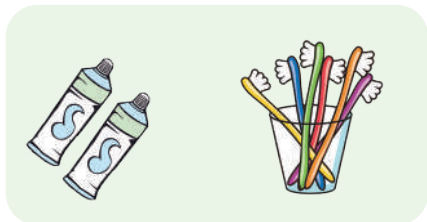
خیر	تا حدودی	بله	انتظارات آموزشی: ارزشیابی آموزگار
			با مفهوم نماد اعداد آشنایی دارد.
			با مفهوم برابر (مساوی) آشنایی دارد.
			الگوهای شطرنجی را به درستی رسم می‌کند.
			با مفهوم تقارن آشنایی دارد.
			توانایی اندازه‌گیری اشکال را دارد.





آزمونک تم ۱۳




۱) دلبندم، برای شکل‌های زیر، جمع بنویس.







..... + =

..... + =

۲) عزیز دلم، عدد هر دسته را بنویس.



۳) دانش آموز زرنگ، سیب‌هایی که حاصل جمع‌هایشان ۱۰ تا می‌شود، را قرمز کن.



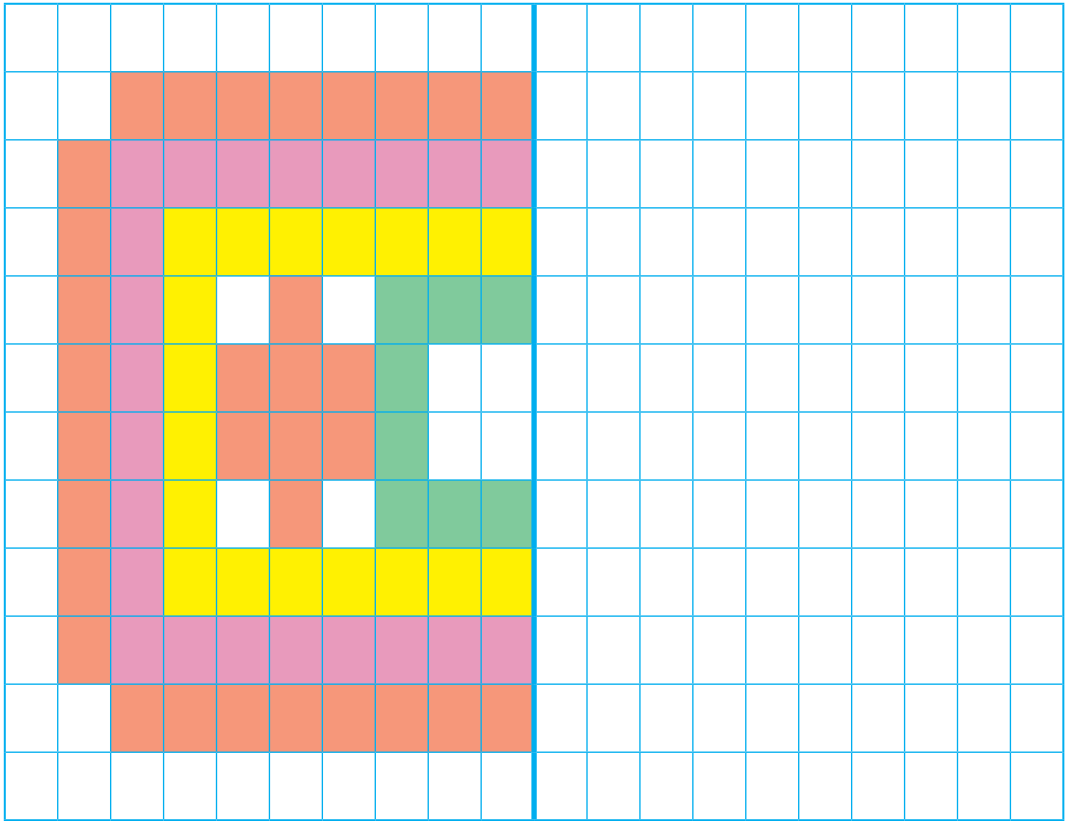
خیر	تا حدودی	بله	انتظارات آموزشی: ارزشیابی آموزگار
			با مفهوم جمع آشنایی دارد.
			با مفهوم نماد اعداد آشنایی دارد.
			جمع اعداد را به خوبی می‌داند.





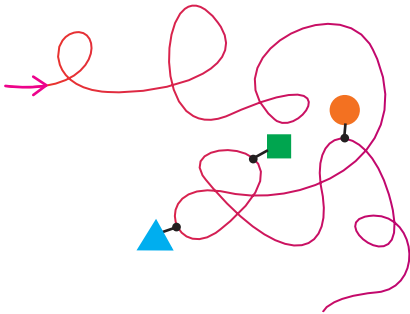
۱ ۱

۱۱- گلم، نیمه‌ی دیگر شکل را کامل کن.



سرگرمی زبل خان

اگر از → شروع کنیم، به ترتیب به کدام یک از شکل‌ها می‌رسیم؟



(ب) ■، ●، ▲

(الف) ●، ■، ▲

(د) ●، ▲، ■

(ج) ■، ▲، ●

(ه) ▲، ●، ■

ارزشیابی توصیفی آموزگار:

